

Kyron achète 4 paquets de 15 biscuits.

4 + 15 biscuits

4 fois 15 biscuits

Sarah a 3 petits livres et 15 grands livres.

3 + 15 livres

3 fois 15 livres

Lucas a ramassé 5 poires et 30 cerises.

5 + 30 fruits

5 fois 30 fruits

Le serveur a apporté 3 plateaux de 12 cafés.

3 + 12 cafés

3 fois 12 cafés

Anthony a utilisé 3 cahiers de 48 pages.

3 + 48 pages

3 fois 48 pages

Angèle a fait 6 colliers et 14 bracelets.

6 + 14 bijoux

6 fois 14 bijoux

Le fermier a 4 vaches et 13 moutons

4 + 13 animaux

4 fois 13 animaux

Kessy a lu 5 livres de 412 pages

5 + 412 pages

5 fois 412 pages

Andréas a composé 3 bouquets de 5 roses.

3 + 5 roses

3 fois 5 roses

Deux équipes de 8 joueurs s'affrontent.

2 + 8 joueurs

2 fois 8 joueurs

Nathan a pêché 3 brochets et 5 truites.

3 + 5 poissons


3 fois 5 poissons

Manon a mangé 3 paquets de 2 gâteaux


3 + 2 gâteaux

3 fois 2 gâteaux

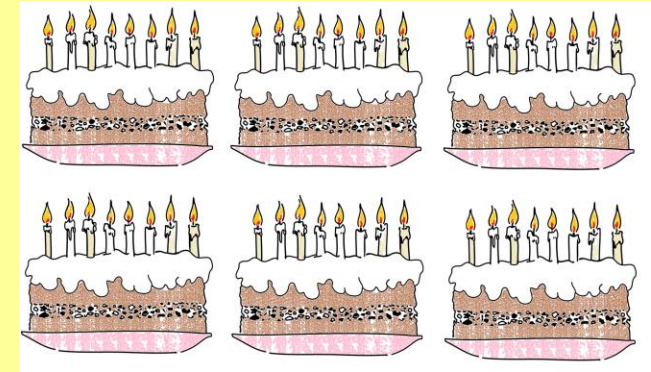
Combien de salades y a-t-il ?



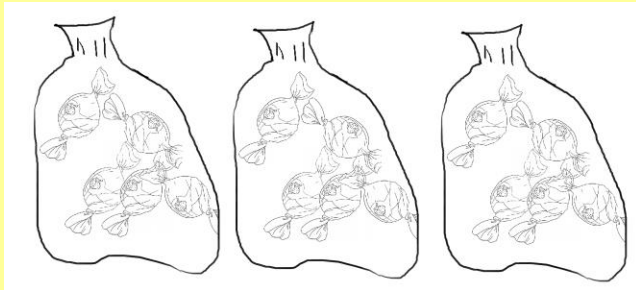
Combien de ballons y a-t-il ?



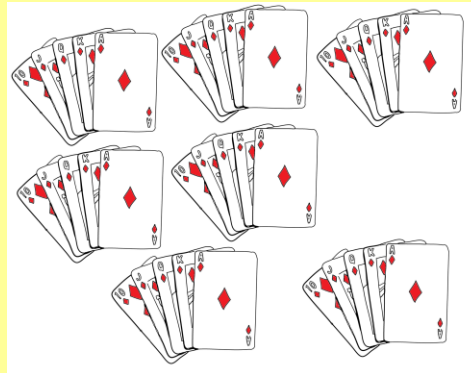
Combien de bougies y a-t-il ?



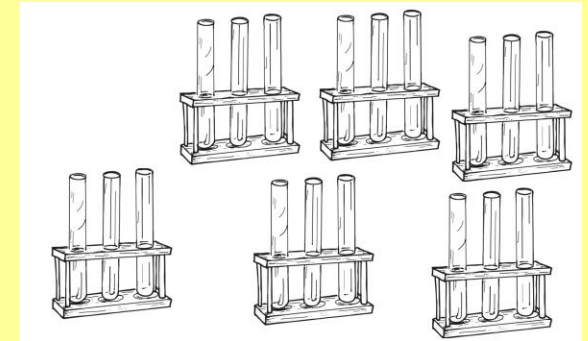
Combien de bonbons y a-t-il ?




Combien de cartes y a-t-il ?



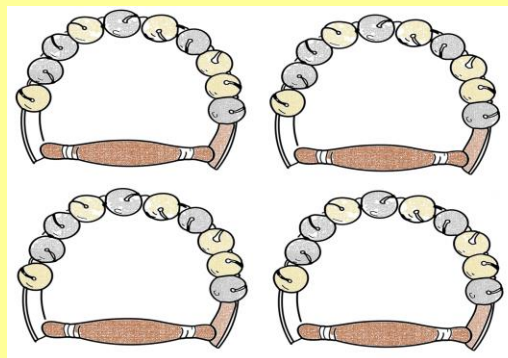
Combien de tubes à essai y a-t-il ?




Combien d'étoiles y a-t-il ?




Combien de grelots y a-t-il ?



Combien de lutins y a-t-il ?



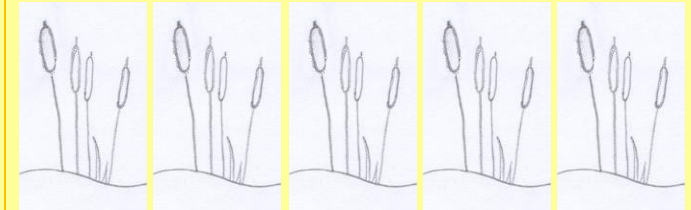
Combien de voiles y a-t-il ?



Combien de fenêtres y a-t-il ?



Combien de roseaux y a-t-il ?



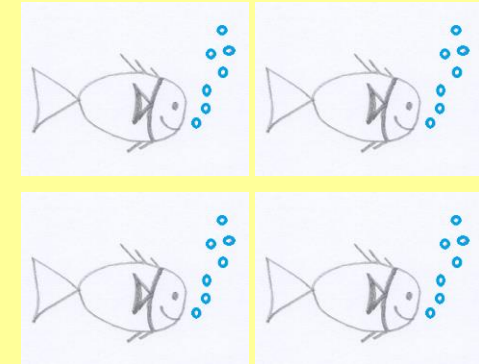
Combien de yeux y a-t-il ?




Combien de fleurs y a-t-il ?




Combien de bulles y a-t-il ?




Combien de taches y a-t-il ?



Combien de pattes y a-t-il ?



Combien de perles y a-t-il ?



MULTIPLICATION



MULTIPLICATION



MULTIPLICATION



MULTIPLICATION



MULTIPLICATION



MULTIPLICATION



MULTIPLICATION



MULTIPLICATION



MULTIPLICATION



Nathan prépare 4 assiettes contenant chacune 6 asperges.

Combien d'asperges prépare-t-il ?

Manon achète 3 packs de 6 bouteilles d'eau pétillante.

Combien de bouteilles va-t-elle rapporter ?

Les athlètes ont réalisé 8 courses de 7 minutes.

Pendant combien de minutes ont-ils couru ?

A son jeu vidéo, Leyla a remporté 3 manches à 15 points, 8 manches à 9 points et 4 manches à 22 points.

Combien de points a-t-elle marqués à la fin de la partie ?

Pour la rentrée, la maitresse a acheté trois paquets de huit feutres bleus, deux paquets de huit feutres rouges et trois paquets de huit feutres jaunes.

Combien de feutres a-t-elle achetés en tout ?

Sur une main, quatre doigts comportent chacun trois phalanges et un doigt comporte deux phalanges.

En tout, combien de phalanges y a-t-il sur les doigts de la main ?

La jardinière du château a acheté 8 paquets de 100 graines d'œillets, 7 paquets de 100 graines de marguerites et 9 paquets de 100 graines de coquelicots.

De combien de graines la jardinière dispose-t-elle ?

Samuel a 6 paquets de 10 vignettes pour son album de football.

Elya en a 3 paquets.

Combien de vignettes ont-ils à eux deux.

Les enfants des classes de maternelle ont fait cuire des cookies pour la fête de l'école. Ils ont rempli 5 boîtes de 9 cookies.

Combien de cookies ont-ils préparé ?